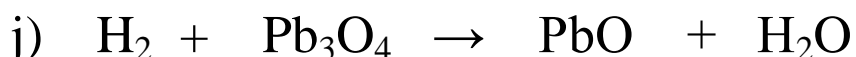
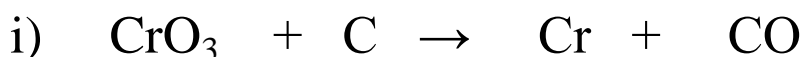
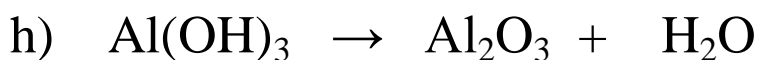
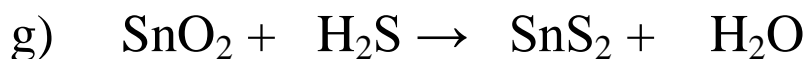
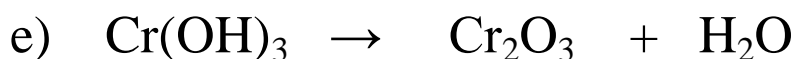
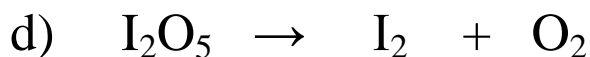
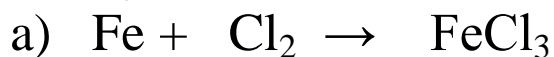


1. Dobierz współczynniki stechiometryczne w równaniach reakcji:



2. Zapisz za pomocą symboli i wzorów chemicznych równania następujących reakcji i dobierz współczynniki stechiometryczne:

